



# TaRL

Teaching at the Right Level



## సెలవుల్లో సరదాగా

### సమ్మర్ క్యాంప్

# SUMMER CAMP 2024





## సంభాషణ

చిత్రాన్ని చూడండి అందులో ఏమి జరుగుతుందో మీ స్నేహితులతో చర్చించండి.



సరదాగా

కింది రాసిన వాక్యాన్ని 5 సార్లు అగకుండా చెప్పండి.

రెండు ఎర్ర లారీలు  
రెండు పచ్చ లారీలు

గాడి లోన కందిపప్పు  
గాడి కింద పందికొక్కు


నీ నూనె నా నూనని నేనన్నానా  
నా నూనె నా నూనే నీ నూనె నీ నూనే

కాకీక కాకికి కాక కైకకా  
బుజ్జిగాడు బజ్జీలు తిని  
బుజ్జిగా బజ్జున్నాడు

సూచన : ఇటువంటివి మరికొన్ని సేకరించి మీ స్నేహితులతో కలిసి అభ్యసన చేయండి.

**రంగులు వేద్దాం రండి!**

క్రింద ఇచ్చిన చిత్రాన్ని అందమైన రంగులతో నింపండి.



**బొమ్మను గీద్దాం... రంగులతో నింపుదాం!**


మీకు నచ్చిన బొమ్మను గీసి అందులో రంగులను నింపండి.



## ఆకులతో చిత్రాలను రూపొందించండి

ఏం కావాలి : ఆకులు, చార్ట్ పేపర్ లేదా నోట్ బుక్, స్కెచ్ పెన్, బంతి.

ఏం చేయాలి : వివిధ రకాల ఆకులను సేకరించండి మరియు క్రింద ఇచ్చిన చిత్రాల మాదిరిగా ఆకులు మరియు రంగులతో వివిధ జంతువుల చిత్రాలను రూపొందించండి.



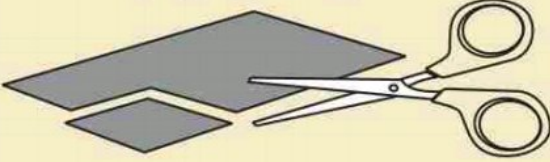


## పక్షుల గుంపు

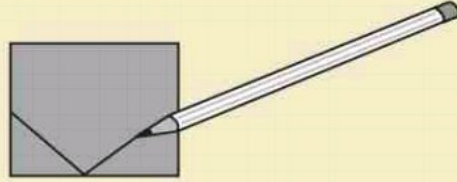
క్రింద ఇచ్చిన సూచనల ఆధారంగా పక్షుల గుంపును తయారు చేయండి.

కావలసిన సామాగ్రి : అట్టపెట్టె, ప్లాస్టిక్ టేపు, పెన్సిల్ మరియు కత్తెర

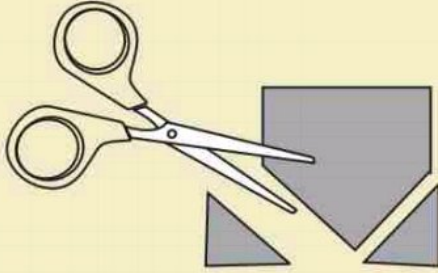
- 1 ఒక అట్టపెట్టె తీసుకొని దాని నుండి 10 సెంటిమీటర్ల వైశాలం గల చతురస్రాన్ని కత్తెరతో కత్తిరించండి.



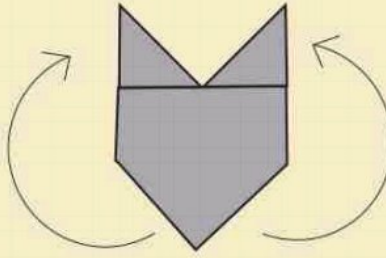
- 2 అట్టపెట్టె పైన పెన్సిల్తో రెండు త్రికోణాలను గీయండి.



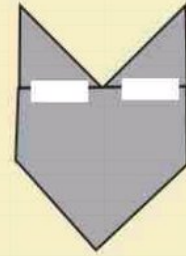
- 3 త్రికోణాలను కత్తెరతో కత్తిరించండి.



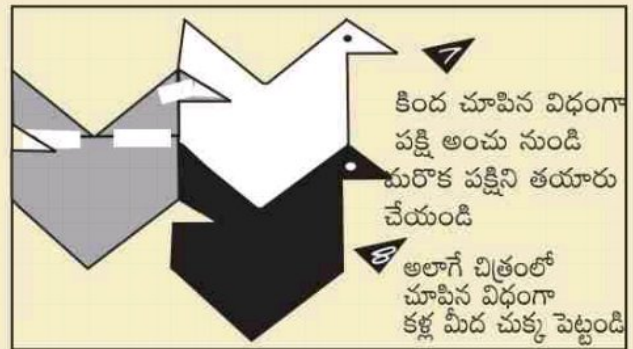
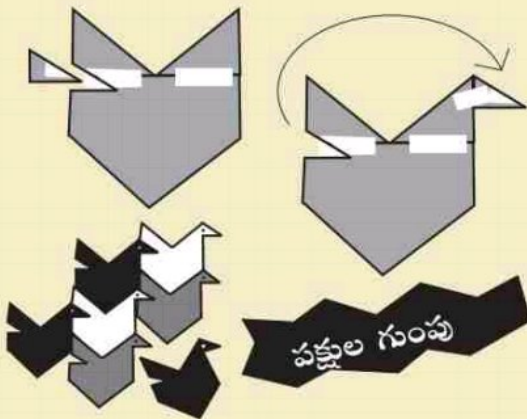
- 4 ఇప్పుడు వాటి స్థానాలను మార్చండి.



- 5 వాటిని కింద చూపిన విధంగా ప్లాస్టిక్ టేపుతో అతికించాలి.



- 6 కింద చూపిన విధంగా ముక్కును కూడా కత్తిరించి అతికించండి



కింద చూపిన విధంగా పక్షి అంచు నుండి మరొక పక్షిని తయారు చేయండి

అలాగే చిత్రంలో చూపిన విధంగా కళ్ల మీద చుక్క పెట్టండి

## పొడుపు కథలు

క్రింద ఇచ్చిన పొడుపు కథలను విప్పండి చూద్దాం!!

కిటకిట తలుపులు  
కిటారు తలుపులు  
ఎప్పుడు తెరిచినా  
చప్పుడు కావు

అడవిలో పుట్టాను అడవిలో పెరిగాను  
వంటి నిండా గాయాలు  
కడుపు నిండా రాగాలు

నల్లటి పొలంలో తెల్లటి విత్తనాలు  
చేతితో చల్లుతారు  
నోటితో ఏరుతారు

మేఘం నుండి దూకేస్తా!  
చేలను ఊళ్ళను తడిపేస్తా!  
చెరువులు, కుంటలు నింపేస్తా!  
నేలను పచ్చగా మార్చేస్తా!  
ఎవరిని? నేనెవరిని?

సూచన : ఇటువంటివి మరికొన్ని సేకరించి మీ స్నేహితులతో కలిసి అభ్యసన చేయండి.


## కనుక్కొండి చూద్దాం!!

జైబవాన్ జైకిసాన్ అన్నాడు  
పొట్టివాడైనా గట్టివాడనిపించాడు  
పేరులో పుండు బహదూర్  
ఆయనంటే శత్రువులకు బలాదూర్



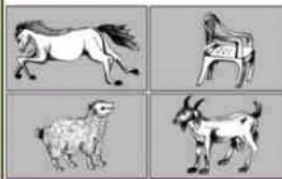
స్వరాజ్యం నా జన్మహక్కుని  
గర్జించిన ఘనదేవుడు  
లోకమాన్యుడై విలసిల్లిన  
ఆ మాన్యచరితుడేవ్వుడు.

నువ్వడిస్తే నేనడుస్తా  
నువ్వు నవ్వుతే నేను నవ్వుతా  
కొంగు జిగిస్తే కొంగు జిగిస్తా  
తాడ కొడితే తాడ కొడతా  
ఎవరిని? నేనెవరిని?



అటుక మీదిది అందిస్తా  
మిద్దెలపైకి ఎక్కిస్తా  
అశకు హద్దులు లేనివారు  
ఆకాశానికే సన్నేస్తారు  
అపై బోర్లా వడతారు  
ఎవరిని? నేనెవరిని?

మాయల పెద్ద మంత్రాల పెద్ద  
వింతలు ఎన్నో చూపే పెద్ద  
వలలో పడితే చదువులు నున్నా  
హద్దులో పుండుట ఎంతో మున్న  
ఎవరిని? నేనెవరిని?



నాలుగు కాళ్ళ నాకున్నాయి  
ప్రాణం ఉన్న చింతువు కాను  
ఇంటిల్లిపాదని మోస్తుంటా  
దక్ఖలేమో అన్నలు లేవు  
పేదా ధనికా కదా లేదు  
నేను లేని ఇట్టే లేదు  
ఎవరిని? నేనెవరిని?

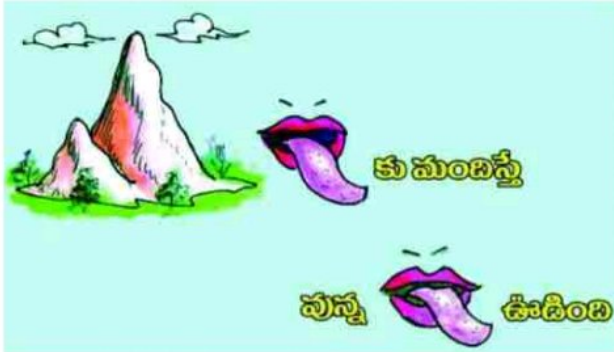
పుణ్యానికి అందరికన్నా ముందుంటా  
మస్జిదులో మౌనంగా మధ్యన పుంటా  
నాటకంలో చివరన కూర్చుంటా  
ఎవరిని? నేనెవరిని?



గిర గిర తిలగే చక్రంపై  
మట్టి ముద్దలకే రూపం ఇస్తా  
చక చక గడ్డిలో కాల్చేసి  
నీ నల్లెంబికే చర్చేస్తా  
ఎవరిని? నేనెవరిని?

సూచన : ఇటువంటివి మరికొన్ని సేకరించి మీ స్నేహితులతో కలిసి అభ్యసన చేయండి.





సూచన : ఇటువంటివి మరికొన్ని సేకరించి మీ స్నేహితులతో కలిసి అభ్యసన చేయండి.

గుణింతాల నుండి పదాలు తయారు చేయండి.

న	నా	ని	నీ	ను	నూ	న్మ	న్మూ	నె	నే	నై	నొ	నో	నౌ	నం	నః
మ	మా	మి	మీ	ము	మూ	మ్మ	మ్మూ	మె	మే	మై	మొ	మో	మౌ	మం	మః

మీనా

_____	_____	_____	_____
_____	_____	_____	_____
_____	_____	_____	_____
_____	_____	_____	_____

జ	జా	జి	జీ	జు	జూ	జ్మ	జ్మూ	జె	జే	జై	జొ	జో	జౌ	జం	జః
బ	బా	బి	బీ	బు	బూ	బ్మ	బ్మూ	బె	బే	బై	బొ	బో	బౌ	బం	బః

జాజి

_____	_____	_____	_____
_____	_____	_____	_____
_____	_____	_____	_____
_____	_____	_____	_____

క	కా	కి	కీ	కు	కూ	క్మ	క్మూ	కె	కే	కై	కొ	కో	కౌ	కం	కః
ల	లా	లి	లీ	లు	లూ	ల్మ	ల్మూ	లే	లే	లై	లొ	లో	లౌ	లం	లః

కాలు

_____	_____	_____	_____
_____	_____	_____	_____
_____	_____	_____	_____
_____	_____	_____	_____

సూచన : ఇటువంటివి మరికొన్ని సేకరించి మీ స్నేహితులతో కలిసి అభ్యసన చేయండి.



## పద సంపద

కింద ఇవ్వబడిన అక్షరాల పట్టిక నుండి నదుల పేర్లు వెతికి రాయండి.

గం	తుం	గ	భ	ద్ర
త్త	జ్జ	క్క	ల్ల	రి
టా	ట్ర	వ్వా	ప్ర	త్ర
చ్చ	య	ము	భ	సిం
ణ్	స	ర్మ	ద	ధు

.....

.....

.....

.....

.....

.....

## జతపరచండి

సరైన జతలను సరిపోల్చండి.

గగనం	అంధకారం
చీకటి	ఆకాశం
నగలు	వాయువు
గాలి	అభరణాలు
జలం	నీరు

## మార్చండి

అక్షరాలను సరైన క్రమంలో ఉంచడం ద్వారా పదాలను తయారుచేయండి.

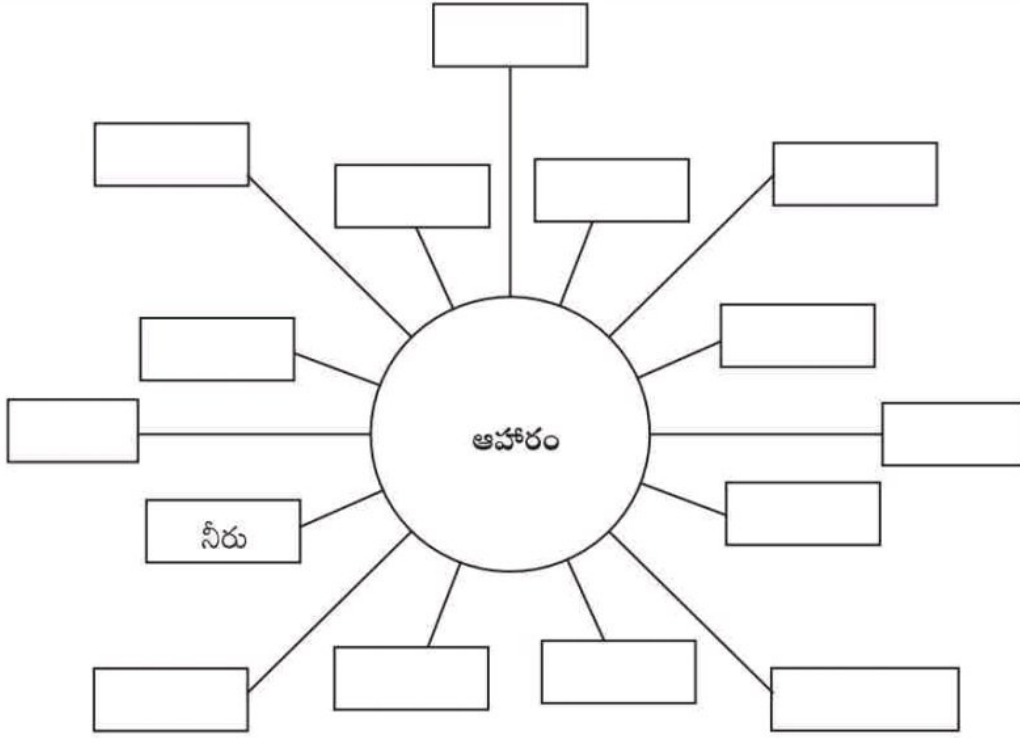
క	చీ	టి	_____	చీకటి
ర్ష	ము	వ	_____	
య	తీ	ని	_____	
ది	గ		_____	
ను	ఏ	గు	_____	
లు	త	పు	_____	

డ	వ		_____	
ల	క	మ	_____	
కం	స	క	_____	
డు	రా	ము	_____	
మ	యం	స	_____	
ర	ము	వ	_____	

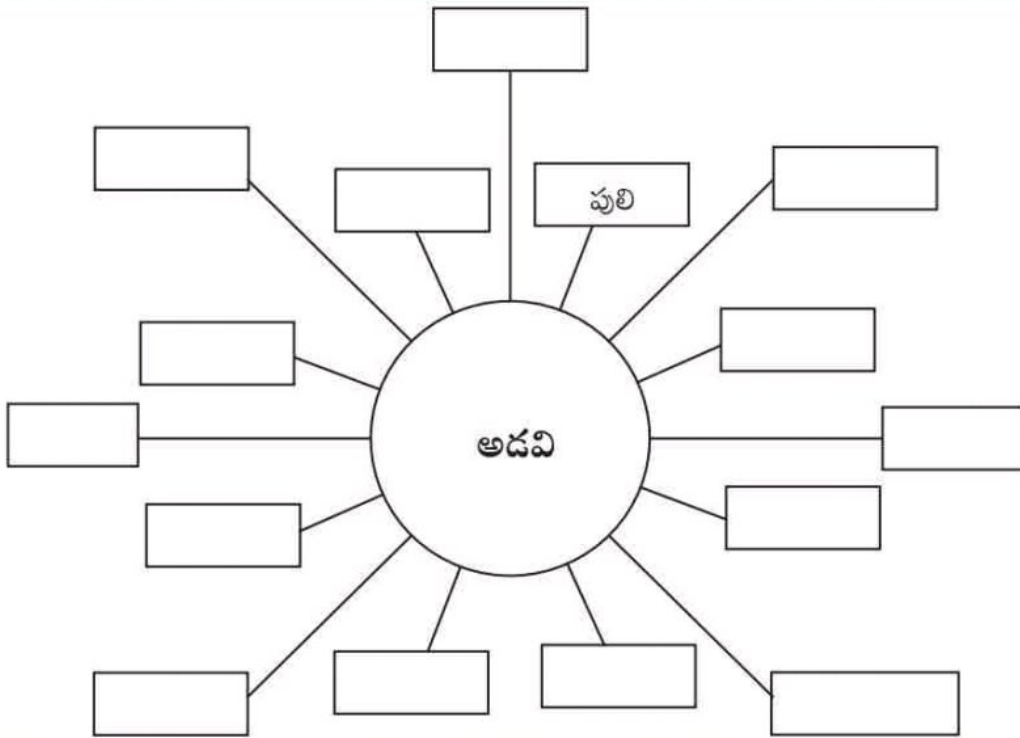


## మైండ్ మ్యాప్

ఆహారం అనే పదం వినగానే మీ మనసులో వచ్చిన పదాలను క్రింద ఇచ్చిన గడులలో రాయండి.



అడవి అనే పదం వినగానే మీ మనసులో వచ్చిన పదాలను క్రింద ఇచ్చిన గడులలో రాయండి.




సూచన : ఇటువంటివి మరికొన్ని సేకరించి మీ స్నేహితులతో కలిసి అభ్యసన చేయండి.

## తాబేలు మరియు కుందేలు

కథను చదవండి మరియు ఇచ్చిన ప్రశ్నలకు సమాధానాలు రాయండి.

తాబేలు మరియు కుందేలు స్నేహితులు. ఒక రోజు ఇద్దరూ కలిసి పరుగు పందెం పోటీ పెట్టుకోవాలని అనుకున్నాయి. కుందేలు వేగంగా పరుగెత్తింది. తాబేలు నెమ్మదిగా వెళ్తుంది. కుందేలు చాలా దూరం వెళ్ళిపోయింది. తాబేలు చాలా వెనుకబడి ఉందని కుందేలు అనుకుని తను వచ్చేంత వరకు విశ్రాంతి తీసుకోవచ్చు అని ఆలోచించి చెట్టు క్రింద పడుకొని గాఢ నిద్రలోకి జారుకుంది. తాబేలు మాత్రం నెమ్మదిగా వెళ్తూ నడుస్తూనే గమ్యానికి చేరుకొని గెలుపొందింది. కుందేలు పోటీలో ఓడిపోయింది.



1- తాబేలు మరియు కుందేలు ఏమి అనుకున్నాయి?

2- తాబేలు ఎలా గెలిచింది?

3- ఏవైనా ఐదు పెంపుడు జంతువుల పేర్లు రాయండి?

4- కుందేలు ఓడిపోయిన తర్వాత ఎలా భావించింది? మీరు ఆలోచించి రాయండి?




## సంభాషణ

కథను చదవండి మరియు ఇచ్చిన ప్రశ్నలకు సమాధానాలు రాయండి.

రాణి సైకిల్ తొక్కుతుంది. అప్పుడు ఆమెకు ఒక గొర్రెపిల్ల అరుపు వినిపించింది. రాణి వెనక్కి తిరిగి చూసింది. గొయ్యి నుండి గొర్రెపిల్ల శబ్దం వినిపిస్తోంది. రాణి సైకిల్ దిగి గొయ్యి దగ్గరకు చేరుకుంది. గొయ్యిలోకి చూసింది. గొర్రె పిల్ల గోతిలో పడి ఉంది.

గొర్రెపిల్ల గోతిలో నుండి బయటకు రాలేకపోతుంది. రాణి ధైర్యం చేసి గోతిలోకి దిగింది. ఆమె గోతిలో నుండి గొర్రెపిల్లను బయటకు తీసింది. గొర్రెపిల్ల సంతోషంతో గెంతుతూ తన తల్లి దగ్గరకు వెళ్ళింది.



1. గొర్రెపిల్ల ఎందుకు అరుస్తుంది?

---

2. గొర్రెపిల్ల గొయ్యిలో నుండి ఎందుకు బయటకు రాలేకపోయింది?

---

3. క్రింద ఇవ్వబడిన జంతువులు మరియు పక్షుల పిల్లల పేర్లను వ్రాయండి.

గొర్రె - గొర్రెపిల్ల      ఆవు - \_\_\_\_\_      కోడి - \_\_\_\_\_

పిల్లి - \_\_\_\_\_      గేదె - \_\_\_\_\_

4. మీరు రాణి స్థానంలో ఉన్నట్లయితే, గొర్రెపిల్లను గొయ్యి నుండి బయటకు తీయడానికి మీరు ఏమి చేస్తారు?

---

---

## అర్థం చేసుకోండి మరియు రాయండి

చిత్రంలోని వారు ఏమి చేస్తున్నారు? దానిపైన సమాహంలో చర్చించండి మరియు రాయండి.





## మన ఆలోచన, మన కథ

ఇవ్వబడిన పదాల ఆధారంగా సమూహంలో చర్చించండి మరియు కథను తయారు చేయండి.

రైతు

మిషన్

నాన్నగారు

పొలం

పైపు

సంత

సహాయం

పంట

ఉదయం

కూరగాయలు

ఫోన్

అమ్మేసి

.....

.....

.....

.....

.....

.....

.....

ఆలోచించండి మరియు చెప్పండి

మీ కథ యొక్క శీర్షిక /పేరు రాయండి? .....

కథలోని ముఖ్య పాత్ర ఎవరు? .....

ఈ కథ ఆధారంగా మీ నోటు పుస్తకంలో చిత్రాన్ని గీయండి.

## ఆలోచించండి, అర్థం చేసుకోండి మరియు సాధించండి

ఇచ్చిన పట్టికలో సంఖ్యలను నింపండి మరియు ఇవ్వబడిన ప్రశ్నలకు సమాధానాలు రాయండి

100				96					91
							73		
70									
				46					
				6					1

జవాబు

- 1 నుండి 20 వరకు సంఖ్యల లెక్కింపులో 18 కంటే 5 సంఖ్యల ముందు ఏ సంఖ్య వస్తుంది?
- ఒకటి నుండి 100 వరకు సంఖ్యల లెక్కింపులో 33 నుండి 15 సంఖ్యల తరువాత ఏ సంఖ్య వస్తుంది?
- 100 నుండి 1 వరకు లెక్కించేటప్పుడు 25 అంతరాలలో ఏవి సంఖ్యలు వస్తాయి?
- ఏ నాలుగు సంఖ్యలను కలపడం వలన 100 వస్తుంది?
- 100 నుండి 1 వరకు లెక్కింపులో 36వ స్థానంలో ఏ సంఖ్య వస్తుంది?



## THINK, UNDERSTAND AND SOLVE

Fill the numbers in the given table and then answer the questions below

100				96					91
							73		
70									
				46					
				6					1

Answer:

- While counting numbers from 1-20 which number comes before 5 numbers to 18?
- While counting numbers from 1-100 which number comes after 15 numbers to 33?
- Which number comes in the 25 intervals when counting from 100-1?
- Sum of which four numbers would become 100?
- Which number comes in the 36th place, while counting from 100-1?

## సంఖ్యలతో ఆట

ఇచ్చిన మొదటి పట్టికలో అంకెలను విడిగా ఇవ్వడం జరిగింది. రెండవ పట్టికలో సంఖ్యలను వ్రాతపూర్వకంగా ఇచ్చారు. అయితే, వ్రాతపూర్వకంగా ఇచ్చిన సంఖ్యలను చదివి మొదటి పట్టికలో గుర్తించి గుండ్రాన్ని చుట్టండి. ఇలా తక్కువ సమయంలో ఎక్కువ సంఖ్యలను ఎవరు గుర్తిస్తారో వారే విజేత.

7	6	3	7	0	6	4	5	9	1
7	9	3	9	8	2	2	1	5	5
3	4	6	6	4	4	2	8	5	6
3	1	3	2	3	0	4	4	0	2
9	0	0	6	7	4	5	1	0	7
2	5	2	5	4	6	1	6	5	6
6	4	7	6	1	4	4	7	5	3
7	6	1	4	4	5	3	0	4	3
4	1	2	6	7	1	5	0	0	4
7	2	0	2	4	7	7	0	8	4

మూడు వందల నాలుగు  
రెండు వందల ఐదు  
మూడు వందల ముప్పై ఆరు  
మూడు వందల దెబ్బై  
ఏడు వందల అరవై ఒకటి  
అరవై ఏడు  
ఐదు వందల నలభై ఆరు  
ఆరు వందల ముప్పై మూడు  
ఏడు వందల నలభై ఐదు  
దెబ్బై ఐదు

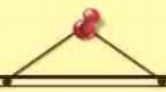
ఎనభై నాలుగు  
రెండు వందల ఇరవై ఒకటి  
తొంభై ఎనిమిది  
అరవై ఆరు  
నూట ముప్పై రెండు  
ఆరు వందల యాభై ఆరు  
తొమ్మిది వందల నలభై  
ఐదు వేల ఐదు వందలు  
ఏడు వందల రెండు  
మూడు వందల ఇరవై మూడు

నాలుగు వందల అరవై ఆరు  
రెండు వందల ముప్పై  
ఏడు వందల నలభై ఒకటి  
తొమ్మిది వందలు  
ఐదు వందల పద్నాలుగు  
నాలుగు వందల పదహారు  
రెండు వందల యనభై ఐదు  
ఏడు వందల పదిహేను  
నాలుగు వేల ఆరు వందల నలభై ఐదు  
తొమ్మిది వేల ఆరు



# Play with numbers

In the below chart single digit numbers are given, then in the next table multiple digit numbers are given in written format, So identify those numbers in the given chart which are in written form in next table and circle them, who ever complete in short time, they wins the game.



7	6	3	7	0	6	4	5	9	1
7	9	3	9	8	2	2	1	5	5
3	4	6	6	4	4	2	8	5	6
3	1	3	2	3	0	4	4	0	2
9	0	0	6	7	4	5	1	0	7
2	5	2	5	4	6	1	6	5	6
6	4	7	6	1	4	4	7	5	3
7	6	1	4	4	5	3	0	4	3
4	1	2	6	7	1	5	0	0	4
7	2	0	2	4	7	7	0	8	4

Three hundred four

Two hundred five

Three hundred thirty six

Three hundred seventy

Seven hundred sixty one

Sixty seven

Five hundred forty six

Six hundred thirty three

Seven hundred forty five

Seventy fiveEighty four

Two hundred twenty one

Ninety eight

Sixty six

One hundred thirty two

Six hundred fifty six

Nine hundred forty

Five thousand five hundred

Seven hundred two

Three hundred twenty three

Four hundred sixty six

Two hundred thirty

Seven hundred forty one

Nine hundred

Five hundred fourteen

Four hundred sixteen

Two hundred eighty five

Seven hundred fifteen

Four thousand six hundred forty five

Nine thousand six

## సంఖ్యలతో ఆట

మనం వివిధ రకాల సంఖ్యల గురించి తెలుసుకోవాలి. వాటిని చదవాలి మరియు రాయాలి.

ఇచ్చిన సంఖ్యల సరయిన జవాబులను గుర్తించాలి. మరియు అక్షర రూపంలో సంఖ్యల రూపంలో ఉన్న వాటిని స్థాన విలువలతో మరియు విస్తరణ రూపంలో కలపాలి.



### అక్షర రూపం

- నాలుగు వందల ఇరవై ఐదు
- ఐదు వందలు
- నాలుగు వందల తొమ్మిది
- మూడు వందల ఇరవై ఐదు
- నాలుగు వేల యాభై రెండు
- ముప్పై ఐదు
- మూడు వందల ఇరవై నాలుగు
- రెండు వందల యాభై నాలుగు
- యాభై రెండు

### అంకెల రూపం

- 409
- 52
- 4052
- 425
- 324
- 500
- 254
- 325
- 35

### స్థాన విలువ

- 4 వందలు, 2 పదులు, 5 ఒకట్లు
- 5 వందలు
- 4 వందలు, 9 ఒకట్లు
- 3 వందలు, 2 పదులు, 5 ఒకట్లు
- 4 వేలు, 5 పదులు, 2 ఒకట్లు
- 3 పదులు, 5 ఒకట్లు
- 3 వందలు, 2 పదులు, 4 ఒకట్లు
- 2 వందలు, 5 పదులు, 4 ఒకట్లు
- 5 పదులు, 2 ఒకట్లు

>

### విస్తరణ రూపం

- $400 + 20 + 5$
- 500
- $4000 + 50 + 2$
- $200 + 50 + 4$
- $300 + 20 + 5$
- $50 + 2$
- $300 + 5$
- $400 + 9$
- $300 + 20 + 4$



# Play with numbers

We need to know about different forms of numbers and then they should be read and write. You should match with the correct numbers which are in different forms like, written form, number form, place value and expansion form.



## WORD FORM

- · Four hundred twenty five
- · Five hundred
- · Four hundred nine
- · Three hundred twenty five
- · Four thousand fifty two
- · Thirty five
- · Three hundred twenty four
- · Two hundred fifty four
- · Fifty two

## NUMER FORM

- 409
- 52
- 4052
- 425
- 324
- 500
- 254
- 325
- 35

## PLACE VALUE

- · 4 hundreds, 2 tens, 5 ones
- · 5 hundreds
- · 4 hundreds, 9 ones
- · 3 hundreds, 2 tens, 5 ones
- · 4 thousands, 5 tens, 2 ones
- · 3 tens, 5 ones
- · 3 hundreds, 2 tens, 4 ones
- · 2 hundreds, 5 tens, 4 ones
- · 5 tens, 2 ones.

## EXPANDED FORM

- $400 + 20 + 5$
- 500
- $4000 + 50 + 2$
- $200 + 50 + 4$
- $300 + 20 + 5$
- $50 + 2$
- $300 + 5$
- $400 + 9$
- $300 + 20 + 4$

## సరైన గణిత కృత్యాల గుర్తులు

క్రింద ఇచ్చిన సంఖ్యా చార్ట్‌లో కొన్ని కూడికలు, తీసివేతలు, గుణకారం మరియు భాగాహారాలు ఉన్న ప్రశ్నలు దాగి ఉన్నాయి. మీరు ఎక్కువ ప్రశ్నలను వెతకండి మరియు సరైన గుర్తులను పెట్టండి. అలాగే ఆటలో విజేత అవ్వండి.

2	1	2	6	1	3	5
7	10	3	+	=	1	5
1	6	2	12	2	4	1
8	4	1	3	7	1	6
21	5	7	-	5	=	2
3	5	6	3	9	7	7
7	6	3	3	5	21	5

## Suitable Operation Symbols



The number chart given below contains some hidden addition, subtraction, multiplication and division questions. You find more questions and mark them with correct symbols and be the winner of the game.

2	1	2	6	1	3	5
7	10	3	6	9	1	5
1	6	2	12	2	4	1
8	4	1	3	7	1	6
21	5	7	-	5	=	2
3	5	6	3	9	7	7
7	6	3	3	5	21	5



## కూడిక - తీసివేత



ఈ ఆటను అడటానికి క్రింద ఇచ్చిన ప్రశ్నలను సాధించండి. వచ్చిన జవాబును వెతికి క్రింద ఇచ్చిన పట్టికలోని సరైన సంఖ్యకు వృత్తాన్ని గీయండి. ఒక లైన్‌లో 5 ప్రశ్నలకు జవాబు వచ్చిన తర్వాత మీరు ఈ ఆటలో విజేత అవుతారు.

90	54	87	86	76
63	85	91	71	61
75	51	35	65	70
66	51	37	97	45
41	18	53	69	88

1)  $50+41 =$

2)  $74-37 =$

3)  $58+17 =$

4)  $19+52 =$

5)  $54+33 =$

6)  $82-28 =$

7)  $70+20 =$

8)  $17+68 =$

9)  $54+32 =$

10)  $25+45 =$

11)  $92-29 =$

12)  $23+28 =$

13)  $95-19 =$

14)  $8+45 =$

15)  $84-18 =$

16)  $58+39 =$

17)  $66+22 =$

18)  $73-38 =$

19)  $25+26 =$

20)  $70-29 =$

21)  $73-30 =$

# ADDITION AND SUBTRACTION



Accomplish the questions given below to play this game. Find the answer and draw a circle for the correct number in the table below. After answering five questions in same line you will be the winner of this game.

90	54	87	86	76
63	85	91	71	61
75	51	35	65	70
66	51	37	97	45
41	18	53	69	88

1)  $50+41 =$

2)  $74-37 =$

3)  $58+17 =$

4)  $19+52 =$

5)  $54+33 =$

6)  $82-28 =$

7)  $70+20 =$

8)  $17+68 =$

9)  $54+32 =$

10)  $25+45 =$

11)  $92-29 =$

12)  $23+28 =$

13)  $95-19 =$

14)  $8+45 =$

15)  $84-18 =$

16)  $58+39 =$

17)  $66+22 =$

18)  $73-38 =$

19)  $25+26 =$

20)  $70-29 =$

21)  $73-30 =$

## తీసివేత గొలుసు



క్రింద ఇచ్చిన ఖాళీ గడులను పూరించండి.

27	-	14	=	
-				-
15	-		=	3
=				=
		31	-	10

33	-	14	=	
-				-
12	-		=	11
=				=

50				
-				-
		27	-	24
=				=
35	-		=	4

	-	15	=	13
-		-		

-				-
				19
=				=



# Subtraction chain



Fill in the blanks given below

27	-	14	=	
-				-
15	-		=	3
=				=
		31	-	10

33	-	14	=	
-				-
12	-		=	11
=				=

50				
-				
		27	-	24
=				=
35	-		=	4

	-	15	=	13
-		-		
=				=
	-	4	=	

-				
				19
=				=

## త్వర త్వరగా సాధించండి



క్రింద ఇచ్చిన ఖాళీ గడులను పూరించండి.

$35 + 54 = \boxed{\phantom{00}}$

$60 - 30 = \boxed{\phantom{00}}$

$48 + 26 = \boxed{\phantom{00}}$

$52 - 21 = \boxed{\phantom{00}}$

$36 + 36 = \boxed{\phantom{00}}$

$81 - 41 = \boxed{\phantom{00}}$

$33 + 10 = \boxed{\phantom{00}}$

$58 - 46 = \boxed{\phantom{00}}$

$22 + 30 = \boxed{\phantom{00}}$

$34 - 12 = \boxed{\phantom{00}}$

$44 + 12 = \boxed{\phantom{00}}$

$49 - 20 = \boxed{\phantom{00}}$

$39 - 12 = \boxed{\phantom{00}}$

$43 - \boxed{\phantom{00}} = 21$

$49 - 32 = \boxed{\phantom{00}}$

$85 - \boxed{\phantom{00}} = 34$

$88 - 14 = \boxed{\phantom{00}}$

$73 + \boxed{\phantom{00}} = 97$

$75 + 25 = \boxed{\phantom{00}}$

$62 + \boxed{\phantom{00}} = 83$

$83 + 36 = \boxed{\phantom{00}}$

$76 - \boxed{\phantom{00}} = 24$

## Solve Quickly



Fill in the blanks given below

$35 + 54 = \boxed{\phantom{00}}$

$48 + 26 = \boxed{\phantom{00}}$

$36 + 36 = \boxed{\phantom{00}}$

$33 + 10 = \boxed{\phantom{00}}$

$22 + 30 = \boxed{\phantom{00}}$

$44 + 12 = \boxed{\phantom{00}}$

$39 - 12 = \boxed{\phantom{00}}$

$49 - 32 = \boxed{\phantom{00}}$

$88 - 14 = \boxed{\phantom{00}}$

$75 + 25 = \boxed{\phantom{00}}$

$83 + 36 = \boxed{\phantom{00}}$

$60 - 30 = \boxed{\phantom{00}}$

$52 - 21 = \boxed{\phantom{00}}$

$81 - 41 = \boxed{\phantom{00}}$

$58 - 46 = \boxed{\phantom{00}}$

$34 - 12 = \boxed{\phantom{00}}$

$49 - 20 = \boxed{\phantom{00}}$

$43 - \boxed{\phantom{00}} = 21$

$85 - \boxed{\phantom{00}} = 34$

$73 + \boxed{\phantom{00}} = 97$


$62 + \boxed{\phantom{00}} = 83$

$76 - \boxed{\phantom{00}} = 24$



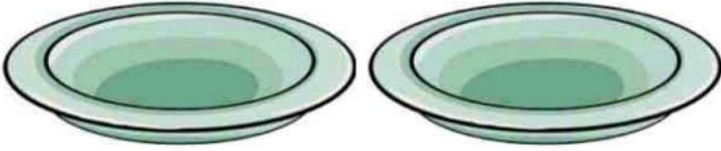
ఆలోచించండి, అర్థం చేసుకోండి మరియు సాధించండి

ఇవ్వబడిన చిత్రం ఆధారంగా ఇవ్వబడిన ప్రశ్నలకు సమాధానాలను రాయండి.



1. చిత్రంలో ఎన్ని రకాల ఆకారాలు ఉన్నాయి?
2. అన్నింటి కంటే పెద్ద ఆకారం ఏది ఉంది?
3. చిత్రంలో అన్నింటి కంటే తక్కువ ఆకారాలు ఏవి ఉన్నాయి?
4. త్రిభుజ ఆకారాలు వృత్తాకారాల కంటే ఎన్ని ఎక్కువగా ఉన్నాయి?

చిత్రాలను చూసి, అర్థం చేసుకొని ఇచ్చిన ప్రశ్నలకు సమాధానం రాయండి.



- చిత్రంలో ఎన్ని వస్తువులు ఉన్నాయి?



- అన్నిటికన్నా పెద్ద వస్తువు ఏది?




- ఎన్ని మగ్గుల నీరు పోస్తే బకెట్ నిడుతుంది?



- గిన్నెల కంటే గ్లాసుల సంఖ్య ఎంత ఎక్కువ?

# THINK, UNDERSTAND AND SOLVE

Write answers to the given questions by observing the picture



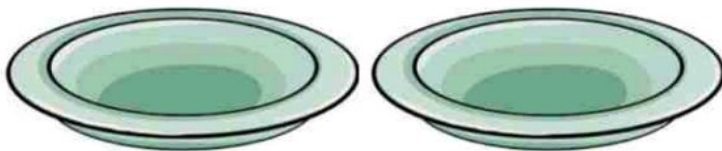
1. How many shapes are there in this picture?

2. Which one is the biggest shape?

3. Which shapes are in least number?

4. How many triangles are bigger than circles?

See the picture, understand and answer the given questions



• How many objects are there in this picture ?



• Which one is the biggest object?.

• How many mugs of water to be poured to fill the bucket?



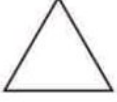
• How many more glasses are there than bowls in the picture?

## అకారాలతో ఆటలు

జతపరచండి



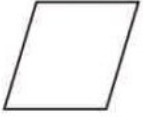
దీర్ఘ చతురస్రం



వృత్తం



త్రిభుజం



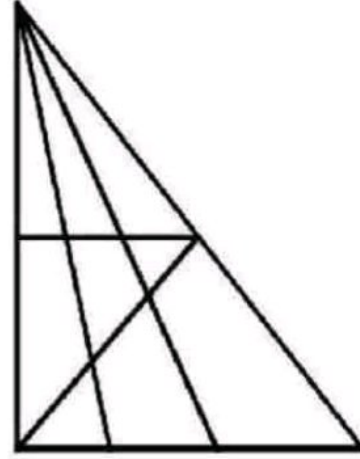
చతుర్భుజం




చతురస్రం

క్రింద ఇవ్వబడిన చిత్రంలో ఎన్ని త్రిభుజాలు

ఉన్నాయో లెక్కించి రాయండి.



ఇచ్చిన చిత్రాన్ని పూర్తి చేయండి మరియు  
మీకు నచ్చిన రంగులను నింపండి.



చిత్రాన్ని చూడండి మరియు లెక్కించి రాయండి

జవాబు

• గుండ్రని ఆకారాలు

• చతురస్రపు ఆకారాలు

• చిత్రంలో గుండ్రని ఆకారాల కంటే  
చతురస్రపు ఆకారాలు ఎన్ని ఎక్కువగా  
ఉన్నాయి?

• చతురస్రపు ఆకారాలను రెట్టింపు చేస్తే ఎన్ని  
చతురస్రాలు అవుతాయి?


• మీ ఇంటి చుట్టూ పక్కల చతురస్రపు ఆకారాలు  
ఏమేమి ఉన్నాయి? వాటి పేర్లు రాయండి?

\_\_\_\_\_

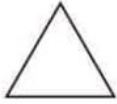


# THINK, UNDERSTAND AND SOLVE


Match the following



Rectangle



Circle



Triangle

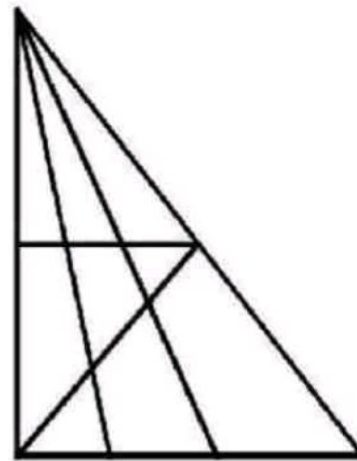



Square




Trapezium

How many Triangles are there in the given picture



Complete the given picture with colour of your choice



Look at the picture and fill in the box given

Answer

• Number of circles?

• Number of squares?

• How many more squares are there than circles in the picture?

• How many squares we will get if we double the number of squares?

• Write the names of objects which are in square shapes in your surroundings ?

\_\_\_\_\_

## ఆలోచించండి, అర్థం చేసుకోండి మరియు సాధించండి

1. సంఖ్య రేఖను చూడండి మరియు ఇచ్చిన ప్రశ్నలను సాధించండి.



జవాబు

- అంకిత్ ఏ సంఖ్య వద్ద నిల్చొని ఉన్నాడు?
- సాక్షి పాఠశాలకి వెళ్ళడానికి ఎన్ని అడుగులు నడవాలి?
- అంకిత్కు సాక్షి దగ్గరకు రావడానికి ఎన్ని అడుగులు నడవాలి?
- అంకిత్కు పాఠశాలకి రావడానికి ఎన్ని అడుగులు నడవాలి?
- సాక్షి ఒకవేళ 6 వ సంఖ్య వద్ద నిలబడితే, ఆమె సంతకి ఎన్ని అడుగులు వెనుకబడి ఉంది?

పక్షి అడవిలో గణితం బోధిస్తుంది

పక్షి: -నేల పై అరవై తొమ్మిది రాయండి.

సక్క: -మేడమ్! అరవై తొమ్మిది ఎలా రాస్తారు?

పక్షి: -ముందు 6 రాయండి దాని పక్కన 9 రాయండి.

సక్క: -నేల పై 6 రాసి ఆగిపోయింది.

పక్షి: -అరే! ఏమైంది? ఎందుకు ఆగావు?

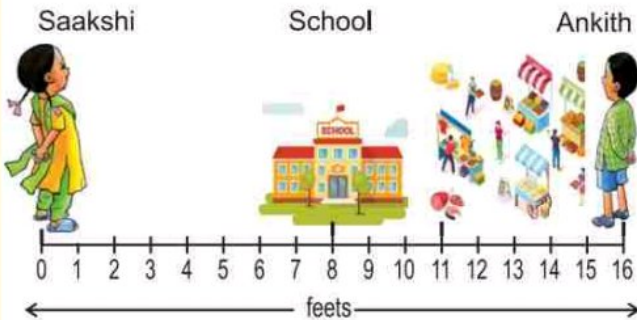
సక్క: -మేడమ్! 9ని ఏ వైపు రాయాలో అర్థం కావడం లేదు.

జవాబు

- ఒకవేళ 6కి ముందు 9 రాస్తే ఏ సంఖ్య ఏర్పడుతుంది? పదాలలో రాయండి?
- ఒకవేళ 6 తర్వాత 9 రాస్తే ఏ సంఖ్య ఏర్పడుతుంది? అంకెలలో రాయండి?
- 6కి ఎడమవైపు 9 రాస్తే 9 యొక్క స్థాన విలువ ఎంత అవుతుంది?
- 69 మరియు 96లో ఏ సంఖ్య పెద్దది? మరియు ఎంత పెద్దది?

# THINK, UNDERSTAND AND SOLVE

1. Look at the number line and answer the given questions.



Answer

- At which number Ankith is standing?
- How many feet should Saakshi walk to go to school?
- How many feet should Ankith walk to reach Saakshi?
- How many feet Ankith will take to school?
- If Saakshi stands at number 6, how many feet she should take to reach the village market?

Bird is teaching maths in the forest

Answer

Bird : Write down the number sixty nine on the floor.

Fox : Madam! How to write sixty nine?

Bird : First write 6 and then write 9 next to it.

Fox : Wrote 6 and stopped.

Bird : Why did you stop?

Fox : Madam, I don't know. Which side to write 9.

- If you write 9 before 6 what will be that number write in words.
- If you write 9 after 6 what will be that number write in numbers?
- What will be place value of 9 if you write 9 left to 6.
- In 69 and 96 which is the biggest number and how big is it?



## ఆలోచించండి, అర్థం చేసుకోండి మరియు సాధించండి

సంఖ్యలు మరియు పేరు

1	2	3	4	5
A	B	C	D	E
6	7	8	9	10
F	G	H	I	J
11	12	13	14	15
K	L	M	N	O
16	17	18	19	20
P	Q	R	S	T
21	22	23	24	25
U	V	W	X	Y
		26		
		Z		

జవాబు

- 20వ సంఖ్య స్థానంలో ఏ అక్షరం ఉంది?
- V యొక్క విలువ P కంటే ఎంత ఎక్కువ?
- మీ పేరులో వచ్చే అంకెల మొత్తం ఎంతో రాయండి?
- CAT అనే అక్షరాల యొక్క సంఖ్యల గుణకార లబ్ధి ఎంత అవుతుంది?
- ఏ ఏ అక్షరాలను కలపడం వలన 100 సంఖ్యను రూపొందించవచ్చు?



సుమన్



రాఘవ



జావిద్



రోజీ

జవాబు

- రాఘవ కంటే ఎక్కువగా జామ పండ్లు ఎవరి దగ్గర ఉన్నాయి ?
- జావిద్ మరియు రాఘవ వద్ద కలిపి మొత్తం ఎన్ని జామ పండ్లు ఉన్నాయి ?
- రోజీకి ఎన్ని జామ పండ్లు ఇస్తే జావిద్ దగ్గర ఉన్న జామ పండ్లకు సమానం అవుతాయి ?
- ఒకవేళ ఒక జామ పండు ధర 7 రూపాయలు అయితే మొత్తం ఆ జామ పండ్లు కొనడానికి ఎన్ని రూపాయలు అవసరం అవుతాయి?

# THINK, UNDERSTAND AND SOLVE

## NUMBERS AND ALPHABETS

1	2	3	4	5
A	B	C	D	E
6	7	8	9	10
F	G	H	I	J
11	12	13	14	15
K	L	M	N	O
16	17	18	19	20
P	Q	R	S	T
21	22	23	24	25
U	V	W	X	Y
		26		
		Z		

Answer

- Which letter is in the place of number 20?
- How much greater is the value of V than P?
- Sum of numbers which are relevant to your name letters?
- What is the product of multiplying numbers of letters in word CAT?
- Which letters can be combined to form the number 100?



Suman



Raghava



Javid





Rosie





Answer

- Who has more guava fruits than Raghava?
- How many guavas do Javid and Raghava have together?
- How many guavas given to Rosie will become equal to Javid?
- If the price of one guava is 7 rupees, how many rupees will be needed to buy all those guavas?

## ఆలోచించండి, అర్థం చేసుకోండి మరియు సాధించండి

మీ చుట్టుప్రక్కల ఈ వస్తువులను వెతికి వాటి పొడవును అంచనా వేయండి. తర్వాత టేప్ తో కొలచి రాయండి.

వస్తువు	అంచనా వేసిన పొడవు	కొలిచి రాయండి
 ఐకెట్		
 గ్లాస్		
 స్కూల్ బ్యాగ్		
 కుర్చీ		

వస్తువు	అంచనా వేసిన పొడవు	కొలిచి రాయండి
 పెన్సిల్		
 పుస్తకం		
 మగ్గు		
 బాటిల్		

గడియారం ముల్లును చూస్తూ సమయాన్ని కనుక్కోండి.




గడియారం సంఖ్య-1



గడియారం సంఖ్య-2



గడియారం సంఖ్య-3



గడియారం సంఖ్య-4

జవాబు

గంటల ముల్లు చిన్నదా లేక పెద్దదా?

• గడియారం సంఖ్య 2 లో ఎంత సమయం అవుతుంది?

• రెండవ గడియారం కంటే మూడవ గడియారం ఎన్ని గంటలు ముందు ఉంది?




• మూడవ గడియారం కంటే మొదటి గడియారం ఎన్ని గంటలు వెనుక ఉంది?





• మీరు పాఠశాల నుండి ఇంటికి ఎన్ని గంటలకు వస్తారు? గడియారం సంఖ్య 4 లో బొమ్మను గీసి చూపించండి?



# THINK, UNDERSTAND AND SOLVE

Look for these objects around you and estimate their length. Then measure with tape and write

Object	Estimated length	Measure and write
 Bucket		
 Glass		
 School bag		
 Chair		

Object	Estimated length	Measure and write
 Pencil		
 Book		
 Mug		
 Bottle		


Find the time by looking at the hands of the clock




Clock-1



Clock-2



Clock-3



Clock-4

- Answer
- Is the hour hand small or big?
  - What time is it on clock number 2?
  - How many hours is the third clock ahead of the second clock?
  - How many hours is the first clock behind the third clock?
  - At what time do you go home from school? Draw the figure in clock number 4?

## అభ్యసన పత్రము









క్రింద ఇచ్చిన ఖాళీ గడులను పూరించండి.

రూపాయల ఆధారంగా ఇచ్చిన ప్రశ్నలను పరిష్కరించండి.



జవాబు

- చిత్రంలో ఎన్ని రూపాయలు ఇవ్వబడినాయి?
- 50 రూపాయల నోటును చిల్లర మార్చితే ఎన్ని రూ. 2 నాణేలు వచ్చును?
- ఇచ్చిన రూపాయలలో అత్యధిక విలువ దేనిది?
- 37 రూపాయల విలువైన వస్తువులను తీసుకున్న తరువాత దుకాణదారుడికి ఏ నోట్లు ఎన్ని మరియు ఏ నాణేలు ఎన్ని చెల్లించాలి?
- అన్ని రూపాయల నోట్లను మరియు నాణేలను అవరోహణ క్రమంలో ఉంచితే మధ్యలో ఏది వస్తుంది?

క్రమ సంఖ్య	జంతువుల పేర్లు	సగటు వయసు (సంవత్సరాలలో)
1	ఎలుగుబంటి 	40
2	కుక్క 	10
3	ఆవు 	15
4	సింహం 	35
5	ఏనుగు 	70
6	కుందేలు 	3

జవాబు

- ఏ జంతువు సగటు జీవితకాలం అన్నిటికంటే తక్కువ కలిగి ఉంది?
- సింహం సగటు వయస్సు ఎన్ని సంవత్సరాలు?
- ఏనుగు మరియు కుక్కల సగటు వయస్సులో ఎన్ని సంవత్సరాల తేడా ఉంది?
- ఏ జంతువు సగటు వయస్సు ఏనుగు సగటు వయస్సులో సగం?
- కుందేలు కంటే ఐదు రెట్లు ఎక్కువ సగటు వయస్సు గల జంతువు ఏది?



# WORKSHEET



Fill in the blanks given below

**Solve the given questions based on Rupees**



Answer







- How many rupees are given in the picture?

- If a 50 rupee note is exchanged at retail. How many Rs. 2 coins will come?

- Which has the highest value of given rupees?

- Which and how many notes and coins should be paid to the shopkeeper after taking goods worth Rs.37.

- If all the notes and coins are placed in descending order, which note or coin comes in the middle?

S.No.	Animal	Average Lifespan (In years)
1	Bear 	40
2	Dog 	10
3	Cow 	15
4	Lion 	35
5	Elephant 	70
6	Rabbit 	3

- Which animal has the lowest average Lifespan?

- What is the average age of a lion?

- How many years of difference between the average age of an elephant and a dog?

- Which animal's average age is half the average age of an elephant?

- Which animal has an average age five times more than a rabbit?



## సరదా క్యాలెండర్

మే 2023

ఆది	సోమ	మంగళ	బుధ	గురు	శుక్ర	శని
	1	2	3	4	5	6
7	8	9	10	11	12	13
14	15	16	17	18	19	20
21	22	23	24	25	26	27
28	29	30	31			

క్యాలెండర్‌ను ఉపయోగించి ముందు మరియు తరువాత తేదీలను కనుగొనండి.

- మే 7 కు 3 రోజుల ముందు

- మే 27 నుండి 5 రోజుల తరువాత

- మే 22కు వారం రోజుల ముందు

- మే 21 నుండి 2 వారాల తరువాత

- జూన్ 6 కు 2 వారాల ముందు

- జూన్ 23 కు 4 వారాల ముందు

- మే 9 నుండి మే 16 వరకు ఒక వేసవి శిబిరం మొదలుకావాలి. కొన్ని కారణాల వలన ఈ వేసవి శిబిరం 1 వారం ఆలస్యంగా ప్రారంభించబడింది. శిబిరం ఏ రోజున ప్రారంభించబడింది మరియు ఏ రోజున ముగిసింది?

.....

.....

# Fun Calendar

May 2023

Sun	Mon	Tue	Wed	Thu	Fri	Sat
	1	2	3	4	5	6
7	8	9	10	11	12	13
14	15	16	17	18	19	20
21	22	23	24	25	26	27
28	29	30	31			

Find the before and after dates using the calendar.

- 3 days before May 7th
- 5 days after May 27th
- A week before May 22nd
- 2 weeks after May 21st
- 2 weeks before June 6th
- 4 weeks before June 23rd
- A summer camp will start from May 9 to May 16. Due to some reasons this summer camp started 1 week late. On which day did the camp start and ends?

.....

.....

# TaRL

Teaching at the Right Level



SUMMER  
CAMP!

